



मध्यप्रदेश

कृषि विस्तार अधिकारी

मध्यप्रदेश कर्मचारी चयन मण्डल (MPESB)

भाग - 4

समूह-2 उप समूह-1

सामान्य गणित एवं तार्किक योग्यता



विषयसूची

S No.	Chapter Title	Page No.
1	संख्या पद्धति	1
2	लघुत्तम समापवर्त्य व महत्तम समापवर्तक	12
3	घातांक व करणी	15
4	औसत	18
5	आयु	22
6	अनुपात, समानुपात और विचरण	23
7	प्रतिशत	27
8	लाभ और हानि	32
9	बट्टा और बेईमान दुकानदार	36
10	साझेदारी	39
11	मिश्रण और पृथक्करण	41
12	समय और कार्य	46
13	नल और टंकी	50
14	समय , चाल और दूरी	53
15	नाव और धारा	58
16	साधारण ब्याज	61
17	चक्रवृद्धि ब्याज	65
18	बीजगणित	69
19	ज्यामिति	75
20	क्षेत्रमिति	92
21	त्रिकोणमिति	107
22	अंग्रेजी वर्णमाला परीक्षण	115
23	संख्या और अक्षर श्रृंखला परीक्षण	118

विषयसूची

S No.	Chapter Title	Page No.
24	कोडिंग एवं डिकोडिंग	125
25	सादृश्यता परीक्षण	130
26	वर्गीकरण परीक्षण	135
27	दिशा और दूरी	140
28	रक्त संबंध	145
29	क्रम एवं स्थान परीक्षण	148
30	घड़ी	152
31	कैलेंडर	155
32	बैठक व्यवस्था	158
33	वेन आरेख	167
34	न्याय निगमन	171
35	लुप्त पद परीक्षण	179
36	दर्पण प्रतिबिंब और जल प्रतिबिंब	184
37	आकृतियों की गिनती	187
38	असमानता	192
39	कथन और निष्कर्ष	197
40	कथन और तर्क	201
41	कारण एवं प्रभाव	206

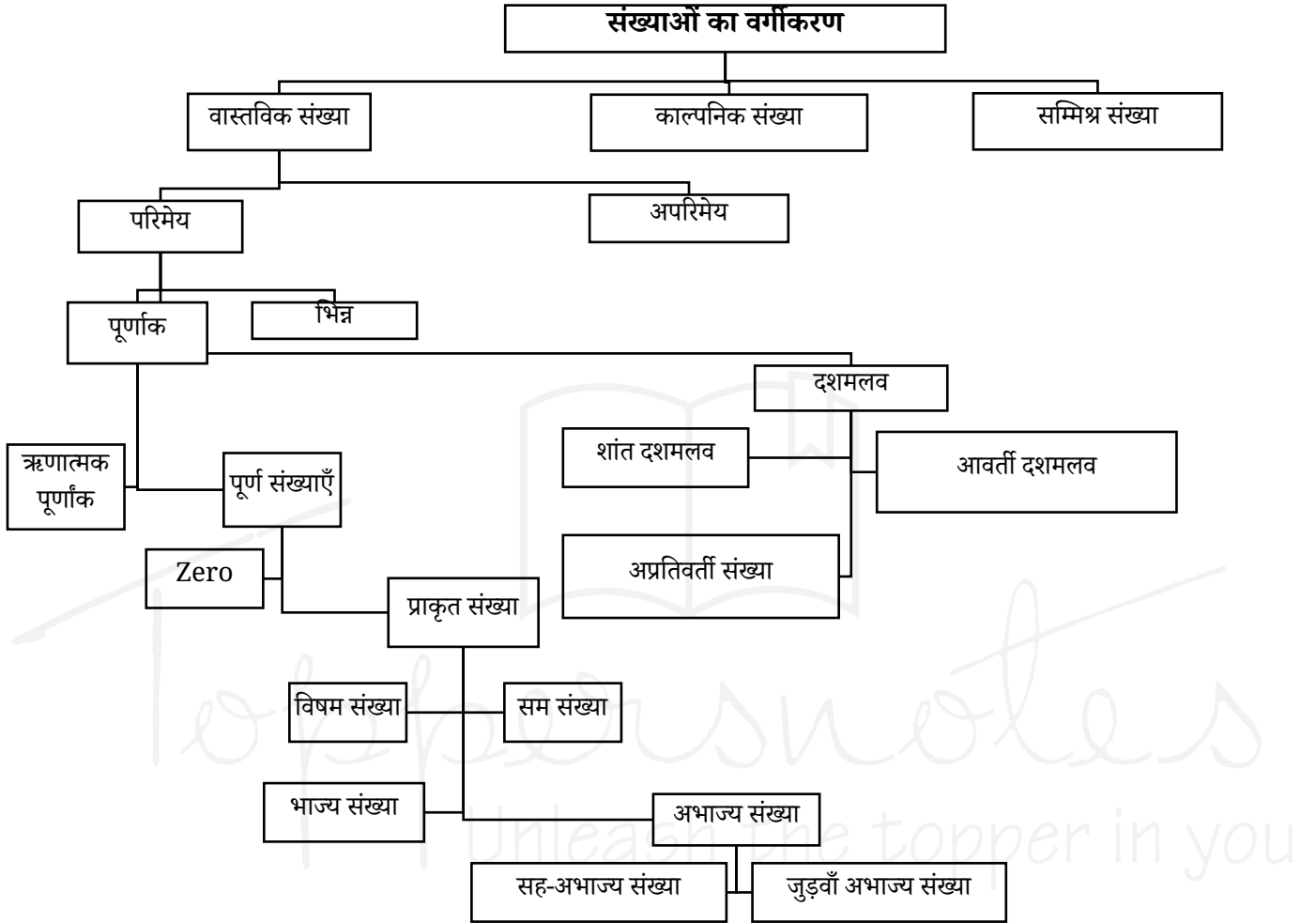
1

CHAPTER

संख्या पद्धति



- **संख्या पद्धति** : संख्या पद्धति, संख्याओं को दर्शाने और उनके साथ काम करने की एक ऐसी विधि है जिसमें प्रतीकों और नियमों के एक परिभाषित समूह का उपयोग किया जाता है।



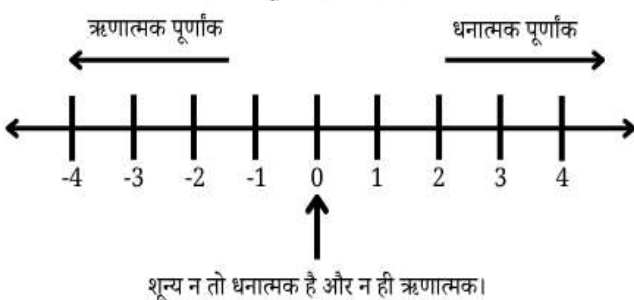
Types	Definition
वास्तविक संख्या	एक वास्तविक संख्या कोई भी ऐसी संख्या होती है जिसे संख्या रेखा पर दर्शाया जा सकता है। वास्तविक संख्या एक ऐसी संख्या है जिसमें सभी परिमेय और अपरिमेय संख्याएँ शामिल होती हैं, और जिसे संख्या रेखा पर एक बिंदु के रूप में व्यक्त किया जा सकता है।
परिमेय संख्या	एक परिमेय संख्या वह संख्या है जिसे $\frac{p}{q}$ के रूप में व्यक्त किया जा सकता है, जहाँ p और q पूर्णांक हैं और $q \neq 0$ है।

अपरिमेय संख्या	एक अपरिमेय संख्या वह संख्या है जिसे $\frac{p}{q}$ के रूप में व्यक्त नहीं किया जा सकता, जहाँ p और q पूर्णांक हैं और $q \neq 0$ है।
भिन्न	भिन्न एक ऐसी संख्या है जो किसी पूर्ण वस्तु के एक भाग को, या दो राशियों के अनुपात को दर्शाती है। इसे $\frac{a}{b}$ के रूप में लिखा जाता है।
पूर्णांक	एक पूर्णांक एक पूर्ण संख्या होती है जो धनात्मक, ऋणात्मक या शून्य हो सकती है, और इसमें कोई भिन्नात्मक या दशमलव भाग शामिल नहीं होता।

ऋणात्मक पूर्णांक	ऋणात्मक पूर्णांक वे पूर्ण संख्याएँ हैं जिनके साथ ऋणात्मक चिह्न होता है, जैसे -1, -2, -3, ...	भाज्य संख्या	भाज्य संख्या एक ऐसी प्राकृत संख्या है जो 1 से बड़ी होती है और जिसके दो से अधिक गुणनखंड होते हैं। एक भाज्य संख्या को 1 से, स्वयं से, और कम से कम किसी एक अन्य संख्या से पूरी तरह विभाजित किया जा सकता है। 4, 6, 8, 9, 10, 12, 14... <ul style="list-style-type: none"> ➤ सबसे छोटी भाज्य संख्या 4 है। ➤ 9 सबसे छोटी विषम भाज्य संख्या 9 है। यदि a और b कोई दो विषम अभाज्य संख्याएँ हैं, तो $a^2 + b^2$ और $a^2 - b^2$ भाज्य संख्याएँ होती हैं।
पूर्ण संख्या	पूर्ण संख्या एक ऋणेतर पूर्णांक है, जिसमें शून्य भी शामिल है।	सह-अभाज्य संख्याएँ	दो या दो से अधिक संख्याओं को सह-अभाज्य (या सापेक्षतः अभाज्य) कहा जाता है, यदि उनका एकमात्र उभयनिष्ठ गुणनखंड (HCF) 1 हो। <ul style="list-style-type: none"> ➤ 1 न तो अभाज्य संख्या है और न ही भाज्य संख्या।
प्राकृत संख्या	प्राकृतिक संख्याएँ वे संख्याएँ हैं जो 1 से शुरू होती हैं और हर बार 1 से बढ़ती जाती हैं। 1, 2, 3, 4,...	जुड़वां अभाज्य संख्याएँ	जुड़वां संख्याएँ (जुड़वां अभाज्य) अभाज्य संख्याओं का एक ऐसा जोड़ा होती हैं, जिनका अंतर ठीक 2 होता है। <ul style="list-style-type: none"> ➤ 5 ही एकमात्र ऐसी अभाज्य संख्या है, जो 2 जुड़वां अभाज्य जोड़ों में शामिल है। (3, 5) (5, 7) ➤ जुड़वां अभाज्य संख्याओं का योग (3 और 5 को छोड़कर) हमेशा 12 से विभाज्य होता है।
विषम संख्या	एक विषम संख्या वह प्राकृत संख्या है जो 2 से विभाज्य नहीं होती, अथवा $2n + 1$ के रूप में होती है।	दशमलव संख्या	दशमलव संख्या एक ऐसी संख्या होती है जिसमें एक दशमलव बिंदु (.) होता है, और जो एक पूर्ण भाग तथा एक भिन्नात्मक भाग से मिलकर बनी होती है। उदाहरण- 3.5, 12.75 आदि।
सम संख्याएँ	एक सम संख्या वह प्राकृत संख्या है जो 2 से पूरी तरह विभाज्य होती है, या $2n$ के रूप में होती है।	शांत दशमलव	एक ऐसी दशमलव संख्या है जो दशमलव बिंदु के बाद अंकों की एक निश्चित संख्या के बाद समाप्त हो जाती है। उदाहरण- 2.5, 0.75
अभाज्य संख्या	अभाज्य संख्या एक ऐसी प्राकृत संख्या है जो 1 से बड़ी होती है और जिसके ठीक दो अलग-अलग गुणनखंड होते हैं: 1 और वह संख्या स्वयं। 2, 3, 5, 7. <ul style="list-style-type: none"> ➤ 2 सबसे छोटी अभाज्य संख्या है। ➤ 2 एकमात्र सम अभाज्य संख्या है। ➤ सभी अभाज्य संख्याओं (2 और 3 को छोड़कर) को $6n + 1$ या $6n + 5$ के रूप में लिखा जा सकता है, जहाँ n एक प्राकृत संख्या है; हालाँकि, इसका विलोम सत्य नहीं है। ➤ (3, 5, 7) तीन अभाज्य संख्याओं का एकमात्र ऐसा समूह है, जो लगातार विषम संख्याएँ हैं। ➤ 101 तीन अंकों की सबसे छोटी अभाज्य संख्या है। ➤ 997 तीन अंकों की सबसे बड़ी अभाज्य संख्या है। 		

अशांत आवर्ती दशमलव	एक अशांत आवर्ती दशमलव वह दशमलव संख्या है जो कभी समाप्त नहीं होती, और जिसमें दशमलव बिंदु के बाद एक या अधिक अंक लगातार दोहराए जाते हैं। उदाहरण- 0.333..., 0.1212
अशांत अनावर्ती दशमलव	एक अनन्त और अनावर्ती दशमलव वह दशमलव संख्या है जो कभी समाप्त नहीं होती और दशमलव बिंदु के बाद कोई भी अंक या पैटर्न दोहराती नहीं है। उदाहरण- 1.1412, 3.14
काल्पनिक संख्या	काल्पनिक संख्या वह संख्या होता है जिसे bi के रूप में लिखा जा सकता है b एक वास्तविक संख्या है i काल्पनिक इकाई है, जिसे इस तरह से परिभाषित किया गया है
सम्मिश्र संख्या	एक सम्मिश्र संख्या वह संख्या है जिसके दो भाग होते हैं—एक वास्तविक भाग और एक काल्पनिक भाग—और जिसे मानक रूप में इस प्रकार व्यक्त किया जा सकता है: $z = a + ib$ a -वास्तविक संख्या, जिसे z का वास्तविक भाग कहा जाता है। b एक वास्तविक संख्या है, जिसे z का काल्पनिक भाग कहा जाता है। i काल्पनिक इकाई है, जिसे इस गुणधर्म द्वारा परिभाषित किया जाता है:

पूर्णांक संख्या रेखा



अभाज्य संख्या तो पता करना

➤ यह पता लगाने के लिए कि कोई संख्या अभाज्य है या नहीं, सबसे पहले उसका वर्गमूल (square root) निकालें और उसे निकटतम पूर्ण संख्या तक पूर्णांकित (round down) करें। फिर यह जाँचें कि क्या वह संख्या इस मान तक की किसी भी अभाज्य संख्या से विभाज्य है। यदि वह उनमें से किसी से भी विभाज्य नहीं है, तो वह संख्या एक अभाज्य संख्या है।

के बीच	अभाज्य संख्या
1-50	15
1-100	25
1-200	46

रामानुजन संख्या

रामानुजन संख्या एक ऐसी संख्या है जिसे दो अलग-अलग तरीकों से, दो धनात्मक घनों के योग के रूप में व्यक्त किया जा सकता है। इसे हार्डी-रामानुजन संख्या या टैक्सी-कैब संख्या के नाम से भी जाना जाता है।

सबसे छोटी रामानुजन संख्या = 1729

$$1729 = 1^3 + 12^3 = 9^3 + 10^3$$

पूर्ण संख्या

पूर्ण संख्या एक ऐसी प्राकृत संख्या है जो अपने उचित भाजकों (अर्थात्, स्वयं उस संख्या को छोड़कर उसके सभी धनात्मक भाजकों) के योग के बराबर होती है।

उदा: 4, 1 और 2 से विभाज्य है, इसलिए $1 + 2 = 3 \neq 4$; अतः, 4 एक पूर्ण संख्या नहीं है।

6, 1, 2 और 3 से विभाज्य है, इसलिए $1 + 2 + 3 = 6 = 6$; अतः, 6 एक पूर्ण संख्या है।

Key points

सम + सम = सम

सम × सम = सम

सम + विषम = विषम

सम × विषम = सम

विषम + विषम = सम

विषम × विषम = विषम

Type 1: परिभाषाओं पर आधारित प्रश्न



उदा: 173 एक अभाज्य संख्या है या नहीं

हल: 173 का वर्गमूल लगभग 13 है। 13 से कम या उसके बराबर अभाज्य संख्याएँ 2, 3, 5, 7, 11 और 13 हैं। चूँकि 173 किसी भी संख्या से विभाज्य नहीं है, इसलिए यह एक अभाज्य संख्या है।

उदा: x, y और z तीन अलग-अलग अभाज्य संख्याएँ हैं, जहाँ $x < y < z$ है। यदि $x + y + z = 70$ हो, तो z का मान क्या होगा?

हल: यहाँ, योग 70 है, जिसका अर्थ है कि इन संख्याओं में से कम से कम एक संख्या सम (even) है। जैसा कि हम जानते हैं, केवल एक ही सम अभाज्य संख्या होती है, और वह है 2 सबसे छोटी अभाज्य संख्या भी है।

इसका अर्थ है कि $x = 2$

अब, $70 - 2 = 68 = y + z$

विभिन्न अभाज्य संख्याओं के मान रखकर देखने पर हमें परिणाम प्राप्त होता है:

$y = 31$ और $x = 37$

उदा: 53 से 97 के बीच कितनी भाज्य (composite) संख्याएँ हैं?

हल: यदि हम 53 और 97 के बीच की कुल पूर्णांक संख्याएँ ज्ञात करें और फिर उनमें से अभाज्य संख्याओं की संख्या घटा दें, तो हमें भाज्य संख्याओं की संख्या प्राप्त हो जाएगी।

कुल संख्या = $97 - 53 + 1 = 45$ (+1 तब जोड़ा जाता है जब दोनों संख्याओं को शामिल किया जाता है)

53 से 97 के बीच कुल अभाज्य संख्याएँ 10 हैं।

अतः, भाज्य संख्याएँ = $45 - 10 = 35$

उदाहरण: निम्नलिखित में से कौन-सा कथन सत्य है?

- (A) सभी अपरिमेय संख्याएँ वास्तविक होती हैं।
- (B) सभी वास्तविक संख्याएँ अपरिमेय होती हैं।
- (C) परिमेय संख्याएँ वास्तविक नहीं होतीं।
- (D) पूर्णांक परिमेय नहीं होते।

हल: अपरिमेय संख्याएँ वास्तविक संख्याओं का एक उपसमुच्चय (subset) होती हैं, इसलिए सभी अपरिमेय संख्याएँ वास्तविक होती हैं।

सभी वास्तविक संख्याएँ अपरिमेय नहीं होतीं;

परिमेय संख्याएँ भी वास्तविक होती हैं।

परिमेय संख्याएँ वास्तविक संख्याएँ ही होती हैं।

पूर्णांक परिमेय संख्याओं का एक उपसमुच्चय होते हैं,

क्योंकि किसी भी पूर्णांक को $\frac{p}{q}$ के रूप में लिखा जा

सकता है (उदाहरण के लिए, $5 = \frac{5}{1}$)

अतः, सही उत्तर (A) है।

Special concept: खास तरह की संख्याओं के अंकों के योग पर आधारित

संख्या	वर्ग	अंको का योग
11^2	121	3
111^2	12321	9
So, on		
111111111^2	1234567898 7654321	81

उदा: एक 9-अंकों वाली संख्या का हर अंक 1 है। इसे उसी संख्या से गुणा किया जाता है। इससे जो संख्या बनती है, उसके अंकों का योग क्या होगा?

हल: concept का प्रयोग करने पर

$111111111^2 = 81$

Type 2: इकाई अंको पर

आधारित प्रश्न



किसी व्यंजक का इकाई अंक ज्ञात करने के लिए, पूरे व्यंजक का मान निकालने के बजाय केवल संख्याओं के इकाई के अंकों पर विचार करें।

$(a + b)$ इकाई अंक = a का इकाई अंक + b का इकाई अंक

$(a - b)$ इकाई अंक = a का इकाई अंक - b का इकाई अंक

$(a \times b)$ इकाई अंक = a का इकाई अंक \times b का इकाई अंक

उदा: 435×433 का इकाई अंक ज्ञात कीजिए

हल:

$a \times b$ का इकाई अंक = a का इकाई अंक \times b का इकाई अंक

$5 \times 3 = 15$, इसलिए इकाई अंक 5 है।

चक्रीयता

संख्या प्रणाली में चक्रीयता का अर्थ है अंकों या शेषफलों का वह दोहराया जाने वाला पैटर्न, जो तब बनता है जब किसी संख्या को उच्च घातों तक बढ़ाया जाता है। इकाई का अंक सभी घातों के लिए अपरिवर्तित रहता है।

$$0 \rightarrow 0 \quad 1 \rightarrow 1$$

$$5 \rightarrow 5 \quad 6 \rightarrow 6$$

2 की चक्रीयता: इकाई का अंक दो मानों के बीच बारी-बारी से बदलता है।

$$4 \rightarrow 4, 6$$

जब घात विषम होती है, तो इकाई का अंक 4 होता है, और जब घात सम होती है, तो इकाई का अंक 6 होता है।

$$9 \rightarrow 9, 1$$

जब घात विषम होती है, तो इकाई का अंक 9 होता है, और जब घात सम होती है, तो इकाई का अंक 1 होता है।

4 की चक्रीयता: इकाई का अंक चार घातों के बाद दोहराता है।

$$2 \rightarrow 2, 4, 8, 6 \quad 3 \rightarrow 3, 9, 7, 1$$

$$7 \rightarrow 7, 9, 3, 1 \quad 8 \rightarrow 8, 4, 2, 6$$

माना, $N = x^y$

(N) का इकाई अंक ज्ञात करने के लिए, हमें केवल आधार संख्या (x) के इकाई अंक पर विचार करने की आवश्यकता होती है। किसी घातीय व्यंजक का इकाई अंक, घात को 4 से विभाजित करने पर प्राप्त शेषफल ज्ञात करके निर्धारित किया जा सकता है।

Type 3: चक्रीयता -अंकगणितीय

समीकरणों पर आधारित इकाई

के अंक पर आधारित प्रश्न



उदा: यदि $x = (164)^{169} + (333)^{337} - (727)^{726}$

x का इकाई अंक ज्ञात कीजिए?

हल: इस व्यंजक में, पहले पद में 4 की घात विषम है, इसलिए पहले पद का इकाई का अंक 4 है। दूसरे पद के लिए, 337 को 4 से भाग देने पर शेषफल 1 आता है, इसलिए दूसरे पद का इकाई का अंक 3 है। तीसरे पद के लिए, 726 को 4 से भाग देने पर शेषफल 2 आता है; अतः, तीसरे पद का इकाई का अंक 9 है।

इसलिए, व्यंजक का इकाई का अंक $4 + 3 - 9 = -2$ है।

यदि इकाई का अंक ऋणात्मक आता है, तो सही इकाई का अंक प्राप्त करने के लिए उसमें 10 जोड़ दें। इकाई का अंक $10 - 2 = 8$ है।

उदा: $1^5 + 2^5 + 3^5 + 4^5 + \dots + 20^5$ का इकाई का अंक ज्ञात कीजिए

हल: प्रत्येक पद में, चक्रीयता 1 है। इसलिए, प्रत्येक पद के लिए, इकाई का अंक वही होता है जो स्वयं उस संख्या का होता है।

1 से 10 तक की संख्याओं के लिए इकाई का अंक शून्य होता है।

$$= (1 + 2 + 2.. + 9 + 0)$$

$$+ (1 + 2 + 3.. + 9 + 0) = 0$$

उदा: $x = 187^{280} \times 529^{320} \times 343^{236}$ का इकाई का अंक ज्ञात कीजिए

हल: यदि शेषफल 0 आता है, तो घात को 4 के बराबर मान लें।

पहले के पद के लिए -7^4 की चक्रीयता 1

दूसरे पद के लिए -9 की घात सम है, इसलिए इकाई का अंक 1 है।

तीसरे पद के लिए -3^4 की चक्रीयता 1

$$\text{इकाई का अंक} = 1 \times 1 \times 1 = 1$$

उदा: व्यंजक का इकाई का अंक $(57242)^{9 \times 7 \times 5 \times 3 \times 1}?$

हल: हम केवल अंक 2 की जाँच करते हैं। घात को 4 से विभाजित किया जाएगा।

$$= 2^{1 \times (-1) \times 1 \times (-1) \times 1} = 2^1$$

अतः इकाई का अंक = 2

Type 4: गिनती पर आधारित प्रश्न (कोई

अंक, पृष्ठ या key stokes की

गिनती)



$$1 \text{ to } 9 \rightarrow \text{आवश्यक अंक} = 9$$

$$10 \text{ to } 99 \rightarrow 90 \times 2 = 180$$

उदा: 428 पृष्ठों वाली एक पुस्तक की नंबरिंग करने के लिए कितने अंकों की आवश्यकता होगी?

हल : 1 to 9 → आवश्यक अंक = 9

10 to 99 → $90 \times 2 = 180$

100 से 428 = $(428-100+1) = 329 \rightarrow 329 \times 3 = 987$

आवश्यक अंकों की कुल संख्या = $9 + 180 + 987 = 1176$

Type 5: पूर्ण वर्ग पर आधारित



प्रश्न

यह कैसे जांचें कि कोई संख्या पूर्ण वर्ग है या नहीं (यह केवल संभावना दर्शाता है)

1. किसी भी पूर्ण वर्ग संख्या के अंतिम दो अंक 1 से 24 तक की संख्याओं के वर्गों में से ही होने चाहिए।
2. इकाई का अंक 2, 3, 7 या 8 नहीं होना चाहिए।
3. संख्या और उसके हर (denominator) में शून्यों की संख्या सम (even) होनी चाहिए।
4. किसी पूर्ण वर्ग संख्या को 9 से भाग देने पर शेषफल 0, 1, 4 या 7 ही आना चाहिए।

उदा: क्या यह संभव है कि 562576 एक पूर्ण वर्ग संख्या हो?

हल: संख्या का अंत 76 से होता है, जो कि एक पूर्ण वर्ग संख्या के लिए संभव है। इकाई का अंक 6 है, इसलिए इस संख्या के पूर्ण वर्ग होने की संभावना है।

562576 के अंकों का योग = 21

9 से भाग देने पर शेषफल 3 आता है।

अतः, यह संख्या पूर्ण वर्ग नहीं है।

Type 6: दशमलव को भिन्न में



बदलना

➤ हर में शून्यों की संख्या, दशमलव बिंदु के बाद आने वाले अंकों की संख्या के बराबर होती है।

$$0.\overline{abc} = \frac{abc}{1000}$$

➤ हर में 9 की संख्या, दशमलव बिंदु के बाद आने वाले अंकों की संख्या के बराबर होती है।

$$0.\overline{abc} = \frac{abc}{999}$$

➤ जब कुछ अंकों पर ओवरलाइन (overline) नहीं होता है

$$0.\overline{abc} = \frac{abc - a}{990}$$

$$0.\overline{abcd} = \frac{abcd - ab}{9900}$$

➤ मिश्रित अवधारणा

$$a.\overline{bcd} = a + \frac{bcd - b}{990} = \frac{abcd - ab}{990}$$

उदा: यदि $A = 0.3\overline{12}$, $B = 0.4\overline{15}$ और $C = 0.30\overline{9}$ तो दिए गये व्यंजक का मान $A + B + C$.

हल:

$$A + B + C = \frac{312 - 3}{990} + \frac{415 - 4}{990} + \frac{309 - 30}{900}$$

$$A + B + C = \frac{720}{999} + \frac{279}{900}$$

$$A + B + C = \frac{10269}{9900} = \frac{1141}{1100}$$



Type 7: शून्यो की संख्या

➤ किसी संख्या के अंत में आने वाले शून्य, उसके गुणनखंडन में 10 की संख्या से निर्धारित होते हैं; यह मुख्य रूप से 5 और 2 के जोड़ों पर आधारित होता है।

➤ फैक्टोरियल एक गणितीय संक्रिया है जो गैर-ऋणात्मक पूर्णांकों के लिए परिभाषित है।

➤ किसी धनात्मक पूर्णांक n के लिए, n का फैक्टोरियल (जिसे $n!$ से दर्शाया जाता है) 1 से लेकर n तक के सभी धनात्मक पूर्णांकों का गुणनफल होता है।

$$n! = n \times (n - 1) \times (n - 2) \times \dots \times 1$$

$$0! = 1, 1! = 1$$

✓ 4! के बाद आने वाली संख्याओं का इकाई अंक शून्य होता है।

✓ 4! और उसके बाद आने वाले सभी फैक्टोरियल 4 से विभाज्य होते हैं।

✓ 'n' क्रमागत प्राकृत संख्याओं का गुणनफल n से विभाज्य होता है।

➤ फैक्टोरियल में निहित संख्या की घात: $n!$ में निहित किसी अभाज्य संख्या 'p' की उच्चतम घात निम्न प्रकार दी जाती है:

$$= \left[\frac{n}{p} \right] + \left[\frac{n}{p^2} \right] + \left[\frac{n}{p^3} \right] + \dots$$

➤ n क्रमागत प्राकृत संख्याओं का गुणनफल सदैव $n!$ से विभाज्य होता है।

उदा: तीन संख्याएँ 24, 25 और 26 किससे विभाज्य हैं?

हल: n क्रमागत प्राकृत संख्याओं का गुणनफल सदैव n! से विभाज्य होता है।

अर्थात् 24, 25, 26, 3! से विभाज्य हैं।

उदा: 100! में अंत में आने वाले शून्यों की संख्या ज्ञात कीजिए।

हल: 100! में 2 के गुणनखंड प्रचुर मात्रा में होते हैं, इसलिए हम केवल 5 के गुणनखंडों की गणना करते हैं।

5 का प्रत्येक गुणज, 5 का कम से कम एक गुणनखंड प्रदान करता है। 25, 50, 75, 100 जैसी संख्याओं में 5 का एक अतिरिक्त गुणनखंड होता है, क्योंकि $25 = 5^2$ होता है।

$$\left\lfloor \frac{100}{5} \right\rfloor + \left\lfloor \frac{100}{25} \right\rfloor + \left\lfloor \frac{100}{125} \right\rfloor = 20 + 4 + 0 = 24$$

अंत में आने वाले शून्यों की संख्या = 24

उदा: $2 \times 4 \times 6 \dots \times 250$ में अंत में आने वाले शून्यों की संख्या ज्ञात कीजिए।

हल: 2 के गुणनखंड बहुत ज़्यादा हैं, इसलिए हम सिर्फ 5 के गुणनखंडों को गिनेंगे।

$$2 \times 4 \times 6 \dots \times 250 = (2 \times 1) \times (2 \times 2) \dots (2 \times 125) \times 125$$

$$(2 \times 1) \times (2 \times 2) \dots (2 \times 125) = 2^{125} (1 \times 2 \times \dots \times 125)$$

$$2^{125} (1 \times 2 \times \dots \times 125) = 2^{125} \times 125!$$

$$\left\lfloor \frac{125}{5} \right\rfloor + \left\lfloor \frac{125}{25} \right\rfloor + \left\lfloor \frac{125}{125} \right\rfloor = 25 + 5 + 1 = 31$$

अंत में आने वाले शून्यों की संख्या = 31

विभाज्यता

संख्या	विभाज्यता का नियम
2	अंतिम अंक 0, 2, 4, 6, 8 हो
3	अंकों का योग 3 से विभाज्य हो
4	अंतिम दो अंकों से बनी संख्या 4 से विभाज्य हो
5	अंतिम अंक 0 या 5 हो
25	अंतिम दो अंक 00 हों या 25 से विभाज्य हों
6	संख्या 2 और 3 दोनों से विभाज्य हो
7	अंतिम अंक का दुगुना शेष संख्या में से घटाएँ; परिणाम 7 से विभाज्य हो

8	अंतिम तीन अंक 8 से विभाज्य हों
9	अंकों का योग 9 से विभाज्य हो
11	सम और विषम स्थानों पर स्थित अंकों के योग का अंतर 0 हो या 11 से विभाज्य हो

Special cases

$$1. 1001 = 7 \times 11 \times 13$$

$$1001 \times abc = abcabc$$

$$2. 10101 = 3 \times 7 \times 13 \times 37$$

$$10101 \times ab = ababab$$

Type 8: विभाज्यता के नियमों



पर आधारित प्रश्न

उदा: एक संख्या N, 9 को 99 बार लिखकर बनाई जाती है। यदि N को 13 से भाग दिया जाए, तो शेषफल क्या होगा?

हल: जब कोई संख्या n बार दोहराई जाती है, तो 6-अंकों की संख्या का संयोजन 7, 11 और 13 से विभाज्य होता है।

96 बार लिखा गया 9, 13 से विभाज्य होगा, और केवल तीन 9 शेष बचेंगे।

$$= \frac{999}{13} \Rightarrow R \rightarrow 11$$

उदा: (a + b) का वह सबसे बड़ा संभव मान ज्ञात कीजिए, जिसके लिए 8-अंकों की संख्या 143b203a, 15 से विभाज्य हो।

हल: 3 की विभाज्यता - यदि इसके अंकों का योग 3 से विभाज्य हो।

5 की विभाज्यता - यदि अंतिम अंक 0 या 5 हो, तो पूरी संख्या 5 से विभाज्य होती है।

15 के गुणनखंड = (3×5) ; अतः, संख्या 3 और 5 दोनों से विभाज्य होनी चाहिए।

इसलिए, a का मान 0 या 5 हो सकता है। लेकिन, क्योंकि प्रश्न में सबसे बड़ा मान पूछा गया है, इसलिए a का मान 5 ही होना चाहिए।

$$\text{इसके बाद, संख्या के अंकों का} = 18 + b$$

$$\text{सबसे बड़े मान के लिए} = b = 9$$

$$\text{अतः, } (a + b) = (9 + 5) = 14$$

उदा: यदि 9-अंकों की संख्या $72x8431y4$, 36 से विभाज्य है, तो y के सबसे छोटे संभव मान के लिए $\left(\frac{x}{y} - \frac{y}{x}\right)$ का मान ज्ञात कीजिए; जहाँ x और y प्राकृत संख्याएँ हैं।

हल: 36 की विभाज्यता का नियम यह है कि संख्या 4 और 9 दोनों से विभाज्य होनी चाहिए।

अंतिम दो अंकों की संख्या = $y4$; $y = 2$ रखने पर, अंतिम दो अंकों की संख्या 24 हो जाती है।

इसलिए, y का मान = 2 है। (y सबसे छोटा संभव मान है)

9 से विभाज्यता के नियम के अनुसार,

संख्या का योग = $31 + x$

अतः, $x = 5$

$$\left(\frac{x}{y} - \frac{y}{x}\right) = \left(\frac{5}{2} - \frac{2}{5}\right) = 2\frac{1}{10}$$



Type 9: व्यंजकों की विभाज्यता

व्यंजक	'n' विषम हो	'n' सम हो
$x^n - y^n$	$(x - y)$	$(x + y)(x - y)$
$x^n + y^n$	$(x + y)$	Can't say

उदा: यदि $(17^{26} - 11^{26})$ को 42 से भाग दिया जाये तो शेषफल क्या होगा?

हल: n सम है. अतः, $(x + y)(x - y)$

$$= \frac{(17 + 11)(17 - 11)}{42} = \frac{28 \times 6}{42}$$

शेषफल = 0

Key Point: यदि 'n' विषम है और $a, b, c \dots z$ क्रमागत प्राकृत संख्याएँ हैं तो $(a^n + b^n + \dots + z^n)$, $(a + b + c \dots z)$ से विभाज्य होगा

उदा: $11^5 + 12^5 + 13^5$ किससे विभाज्य है ?

हल: $11+12+13 = 36$

इसलिए, यह व्यंजक 36 से विभाज्य है।



Type 10: अंक और उसका

विपरीत रूप (2-अंकीय और 3-अंकीय)

1. 2 अंकों वाली संख्या के लिए:

माना, मूल दो अंको वाली संख्या = $10x + y$,

विपरीत संख्या = $10y + x$

दोनों संख्याओं का योग

$$(10x + y) + (10y + x) = 11(x + y)$$

दोनों संख्याओं का अंतर

$$(10x + y) - (10y + x) = 9(x - y)$$

2. 3-अंकों वाली संख्या के लिए:

मान, सैकड़े का अंक = x , दहाई का अंक = y ,

इकाई का अंक = z

मूल संख्या = $100x + 10y + z$

सैकड़े और इकाई के अंकों को आपस में बदलने पर,

नई संख्या = $100z + 10y + x$

दोनों संख्याओं का अंतर = $99(x - z)$

उदा: दो-अंकों वाली किसी संख्या और उसके अंकों को आपस में बदलने पर प्राप्त संख्या का योग 99 है। यदि अंकों का अंतर 1 है, तो वह संख्या क्या है?

हल: माना, संख्या = $10x + y$

$$(10x + y) + (10y + x) = 99$$

$$x + y = 9$$

$$x - y = 1$$

समीकरण हल करने पर $x = 5, y = 4$

अतः, संख्या है = $10 \times 5 + 4 = 54$

उदा: संख्या $23x45678$ को 22 से विभाज्य बनाने के लिए रिक्त स्थान में भरी जाने वाली सबसे छोटी प्राकृत संख्या क्या होगी?

हल: 22 के लिए विभाज्यता का नियम 2 और 11 दोनों से विभाज्यता पर आधारित है। कोई संख्या 11 से तब विभाज्य होती है, जब उसके विषम स्थानों के अंकों के योग और सम स्थानों के अंकों के योग का अंतर 11 से विभाज्य हो।

विषम स्थानों का योग: $3 + 4 + 6 + 8 = 21$

सम स्थानों का योग: $2 + x + 5 + 7 = 14 + x$

$$21 - (14 + x) = 7 - x$$

$$7 - x = 11k, \quad \text{जहाँ } k \text{ कोई पूर्णांक है}$$

x के सबसे छोटे मान के लिए, मान लीजिए $k = 0$

$$7 - x = 0 \Rightarrow x = 7$$

अतः, x का वह सबसे छोटा मान जो संख्या $23x45678$ को 22 से विभाज्य बनाता है, 5 है।

उदा: 700 से 950 तक (दोनों को मिलाकर) ऐसी कितनी संख्याएँ हैं, जो न तो 3 से और न ही 7 से विभाज्य हैं?

हल:

न तो 3 से विभाज्य और न ही 7 से

$$= \text{कुल संख्याएँ} - (3 \text{ या } 7 \text{ से विभाज्य संख्याएँ})$$

$$= \text{कुल} - [N(3) + N(7) - N(21)]$$

कुल संख्याएँ 700 से 950 = 251

$$3 \text{ से विभाज्य} = \frac{251}{3} \approx 83$$

$$7 \text{ से विभाज्य} = \frac{251}{7} \approx 35$$

$$21 \text{ से विभाज्य} = \frac{251}{21} \approx 11$$

अभीष्ट संख्या

$$= 251 - (83 + 35 - 11) = 144$$

गुणनखंडन

किसी संख्या का गुणनखंड (factor) एक पूर्ण संख्या होती है, जिसे किसी दूसरी पूर्ण संख्या से गुणा करने पर मूल संख्या प्राप्त होती है। दूसरे शब्दों में, एक गुणनखंड उस संख्या को पूरी तरह से विभाजित कर देता है और कोई शेषफल नहीं बचता।

$$\text{माना } N = a^p \times b^q \times c^r$$

- गुणनखंडों की कुल संख्या = $(p + 1)(q + 1)(r + 1)$
- सम गुणनखंडों की कुल संख्या = $p(q + 1)(r + 1)$
- विषम गुणनखंडों की कुल संख्या = $(q + 1)(r + 1)$
- सभी गुणनखंडों का योग = $(a^0 + a^1 + \dots + a^p)(b^0 + b^1 + \dots + b^q)(c^0 + c^1 + \dots + c^r)$
- सम गुणनखंडों का योग = $(2^1 + 2^2 + \dots + 2^p)(b^0 + b^1 + \dots + b^q)(c^0 + c^1 + \dots + c^r)$
- विषम गुणनखंडों का योग = $2^0(b^1 + b^2 + \dots + b^q)(c^1 + c^2 + \dots + c^r)$
- गुणनखंडों का औसत = $\frac{\text{गुणनखंडों का योग}}{\text{गुणनखंडों की संख्या}}$
- गुणनखंडों के व्युत्क्रमों का योग = $\frac{\text{गुणनखंडों का योग}}{\text{दी गई संख्या}}$
- अभाज्य गुणनखंडों की संख्या = $p + q + r$
- विशिष्ट अभाज्य गुणनखंडों की संख्या = गुणनखंडों में मौजूद अभाज्य संख्याओं की संख्या
- भाज्य संख्याओं की संख्या = कुल - विशिष्ट अभाज्य संख्याएँ - 1
- प्रत्येक संख्या के धनात्मक और ऋणात्मक गुणनखंड होते हैं
- (अभाज्य संख्या)² के रूप वाली सभी संख्याओं के 3 गुणनखंड होते हैं।

Type 11: गुणनखंडों की



संख्या ज्ञात करना

उदा: $N = 3600$ के लिए सभी प्रकार के गुणनखंड और सभी प्रकार के गुणनखंडों का योग ज्ञात कीजिए।

$$\text{हल: } N = 3600 = 2^4 \times 3^2 \times 5^2$$

- कुल गुणनखंडों की संख्या = $5 \times 3 \times 3 = 45$
 - सम गुणनखंडों की संख्या
 $2 \times (1800) = 2(2^3 \times 3^2 \times 5^2)$
 $= 4 \times 3 \times 3 = 36$
 - विषम गुणनखंडों की संख्या = $3 \times 3 = 9$
 - अभाज्य गुणनखंडों की संख्या = $4 + 2 + 2 = 8$
 - विशिष्ट अभाज्य गुणनखंडों की संख्या (जो गुणनखंडन में दिखाई देते हैं) = $1 + 1 + 1 = 3$
 - भाज्य संख्याओं की संख्या = $45 - 3 - 1 = 41$
 - पूर्ण वर्ग = $(2^2)^2(3^2)^1(5^2)^1$
 $= 3 \times 2 \times 2 = 12$
 - पूर्ण घन = $(2^3)^1 = (1 + 1) = 2$
 - सभी गुणनखंडों का योग = $(2^0 + 2^1 + 2^2 + 2^3 + 2^4)(3^0 + 3^1 + 3^2)(5^0 + 5^1 + 5^2) = 12493$
 - सम गुणनखंडों का योग = $(2^1 + 2^2 + 2^3 + 2^4)(3^0 + 3^1 + 3^2)(5^0 + 5^1 + 5^2) = 12090$
 - विषम गुणनखंडों का योग = $(3^0 + 3^1 + 3^2)(5^0 + 5^1 + 5^2) = 403$
 - अभाज्य गुणनखंडों का योग = $2 + 3 + 5 = 10$
 - भाज्य संख्याओं का योग = कुल योग - (अभाज्य गुणनखंडों का योग + 1)
 $= 12493 - 10 - 1 = 12482$
 - पूर्ण वर्गों का योग = $(2^0 + 2^2 + 2^4)(3^0 + 3^2)(5^0 + 5^1) = 5460$
- उदा: $(4^{11} \times 5^5 \times 3^2 \times 13^2)$ व्यंजक में कुल अभाज्य गुणनखंड की संख्या ज्ञात कीजिए
- हल :
- $$(4^{11} \times 5^5 \times 3^2 \times 13^2) = 2^{22} \times 3^2 \times 5^5 \times 13^2$$
- अभाज्य गुणनखंडों की कुल संख्या
- $$= 22 + 2 + 5 + 2 = 31$$

उदा: $(30^{16} \times 16^{18} \times 20^{21})$ के कितने गुणनखंड ऐसे जो पूर्ण वर्ग होने के साथ साथ पूर्ण घन भी है

$$\text{हल: } 30^{16} \times 16^{18} \times 20^{21} = 2^{130} \times 3^{16} \times 5^{37}$$

जब पूर्ण वर्ग या पूर्ण घन की जाँच करने के लिए कहा जाए, तो देखें कि क्या घात (power) 6 का गुणज है।

$$2^{130} \times 3^{16} \times 5^{37} \\ = 2^{126} \times 2^4 \times 3^{12} \times 3^4 \times 5^{36} \\ \times 5^1$$

$$2^{126} \times 2^4 \times 3^{12} \times 3^4 \times 5^{36} \times 5^1 \\ = (2^6)^{21} \times 2^4 \times (3^6)^2 \times 3^4 \\ \times (5^6)^6 \times 5^1$$

उन गुणनखंडों की कुल संख्या जो पूर्ण वर्ग और पूर्ण घन दोनों हैं = $(21 + 1)(2 + 1)(6 + 1) = 462$

उदा: संख्या $2^8 \times 3^6 \times 5^4 \times 10^5$ के कितने गुणनखंड 120 के गुणज है

$$\text{हल: } N = 2^8 \times 3^6 \times 5^4 \times 10^5 = 2^{13} \times 3^6 \times 5^9$$

$$\frac{N}{120} = \frac{2^{13} \times 3^6 \times 5^9}{2^3 \times 3^1 \times 5^1} = 2^{10} \times 3^5 \times 5^8$$

$$\text{गुणनखंडों की संख्या} = 11 \times 6 \times 9 = 594$$

शेषफल

मान कोई संख्या N है, जिसे भाजक D से भाग देने पर शेषफल R और भागफल Q आता है।

$$N = D \times Q + R$$

भाज्य = भाजक \times भागफल + शेषफल

यदि किसी संख्या a को n से भाग देने पर शेषफल r आता है, तो ka को n से भाग देने पर शेषफल kr आएगा।

यदि संख्याओं a और b को n से भाग देने पर क्रमशः शेषफल r_1 और r_2 आते हैं, तो

$$a + b \text{ को } n, \text{ से भाग देने पर शेषफल } r_1 + r_2$$

$$a \times b \text{ को } n, \text{ से भाग देने पर शेषफल } r_1 \times r_2$$

Type 12: शेषफल प्रमेय पर 

आधारित प्रश्न

उदा: किसी संख्या को 52 से भाग देने पर शेषफल 45 आता है। यदि उसी संख्या को 13 से भाग दिया जाए, तो शेषफल क्या होगा?

हल: चूंकि 13, 52 का एक गुणज (multiple) है, इसलिए हम सीधे ही पहले वाले शेषफल को नए भाजक से भाग दे सकते हैं।

$$= \frac{45}{13} \Rightarrow R \rightarrow 6$$

उदा: किसी संख्या को 12 से भाग देने पर शेषफल 5 आता है। यदि उस संख्या के वर्ग को 8 से भाग दिया जाए, तो शेषफल क्या होगा?

हल: जब किसी संख्या पर कोई गणितीय संक्रिया (operation) की जाती है, तो वही संक्रिया उसके शेषफल पर भी की जा सकती है।

$$= \frac{5^2}{8} = \frac{25}{8} \Rightarrow R \rightarrow 1$$

उदा: यदि भाज्य 45 है, भाजक 8 है, और भागफल 5 है, तो शेषफल ज्ञात कीजिए।

$$\text{हल: } N = D \times Q + R$$

$$45 = 8 \times 5 + \text{शेषफल}$$

$$\text{शेषफल} = 45 - 40 = 5$$

Type 13: शेषफल की



महत्वपूर्ण अवधारणा

$$\frac{(x + a)^n}{x} \Rightarrow R \rightarrow a^n$$

$$\frac{(x + 1)^n}{x} \Rightarrow R \rightarrow 1$$

$$\frac{(x - 1)^n}{x} \Rightarrow R \rightarrow (1)^n$$

$$R = 1 \text{ जब } n - \text{सम हो}$$

$$R = -1 \text{ जब } n - \text{विषम हो}$$

Special case:

$$\frac{4}{6} \Rightarrow R \rightarrow 4$$

$$\frac{4^n}{6} \Rightarrow R \rightarrow 4$$

उदा: जब 2^{75} को 14 से विभाजित किया जाता है, तो शेषफल क्या होगा?

$$\text{हल: } \frac{2^{75}}{15} = \frac{(2^4)^{18} \cdot 2^3}{15} = \frac{(16-1)^{18} \times 8}{15} \Rightarrow R \rightarrow 8$$

उदा: यदि 2^{192} को 6 से विभाजित किया जाए,

तो शेषफल क्या होगा?

हल: अवधारणा का उपयोग करने पर

$$\frac{2^{192}}{6} = \frac{4^{96}}{6} \Rightarrow R \rightarrow 4$$

उदा: जब 37^{47} को 19 से विभाजित किया जाता है, तो शेषफल क्या होगा?

हल:

$$\frac{37^{47}}{19} = \frac{(38-1)^{47}}{19} \Rightarrow R \rightarrow -1$$

शेषफल ऋणात्मक नहीं हो सकता, इसलिए शेषफल को भाजक में से घटाया जाता है।

$$R \rightarrow -1 \Rightarrow R \rightarrow 19 - 1 = 18$$

Type 14: फर्मेट लिटिल प्रमेय



यदि $\frac{a^{p-1}}{p}$, $\Rightarrow R \rightarrow 1$

Conditions

1. P-अभाज्य संख्या है
2. a, P -सह-अभाज्य संख्या है

उदा: जब 21^{47} को 47 से विभाजित किया जाता है, तो शेषफल क्या होगा?

हल: 21 और 47 सह-अभाज्य संख्याएँ हैं, इसलिए हम Fermat's little theorem का उपयोग कर सकते हैं।

$$\frac{21^{47}}{47} = \frac{21^{46} \times 21}{47} \Rightarrow R \rightarrow 21$$

Type 15: यूलर (टोसेंट) प्रमेय



[Euler's (totient) theorem]

$$\frac{A^X}{d} \Rightarrow R \rightarrow 1$$

जहाँ A और d – सह-अभाज्य

X – d से छोटी और d के सह-अभाज्य संख्याओं की संख्या।

$$X = d \left(1 - \frac{1}{p_1}\right) \left(1 - \frac{1}{p_2}\right) \dots \dots \dots$$

जहाँ P^1 और P^2 , d के भिन्न अभाज्य गुणनखंड हैं।

उदा: यदि ϕ Euler's totient फलन, तो $\phi(92) = ?$.

$$\text{हल : } 92 = 2^2 \times 23$$

$$\phi(92) = 92 \left(1 - \frac{1}{2}\right) \times \left(1 - \frac{1}{23}\right) = 44$$

उदा: 7^{82} को 11 से विभाजित किया जाये तो, R=?

हल: 7^{82} को 11 से भाग देने पर शेष राशि ज्ञात करने के लिए, हम फर्मेट प्रमेय का उपयोग कर सकते हैं, जो बताता है कि यदि p एक अभाज्य संख्या है और a एक पूर्णांक है जो p से विभाज्य नहीं है, तो

$$\phi(11) = 11 \left(1 - \frac{1}{11}\right) = 10$$

82 को 10 से विभाजित किया जाता है, और शेषफल है

$$\frac{7^2}{11} \Rightarrow R \rightarrow 5$$

Type 16: विलसन प्रमेय

यदि P अभाज्य संख्या हो तो

$$\frac{(P-1)!}{P} \Rightarrow R \rightarrow P-1$$

$$\frac{(P-2)!}{P} \Rightarrow R \rightarrow 1$$



उदा: जब $568!$ को 569 से विभाजित किया जाएगा, तो शेषफल क्या होगा?

हल:

$$\frac{568!}{569} = \frac{(569-1)!}{P} \Rightarrow R \rightarrow 569-1 = 568$$

22

CHAPTER

अंग्रेजी वर्णमाला परीक्षण



- यह अध्याय अंग्रेजी वर्णमाला (A-Z) पर आधारित प्रश्नों को सम्मिलित करता है। अभ्यर्थियों को सभी 26 अक्षरों के स्थानों तथा उनसे संबंधित मूलभूत अवधारणाओं का स्पष्ट ज्ञान होना चाहिए।
- अक्षरों के दो प्रकार होते हैं:
 - ✓ स्वर (Vowels) – A, E, I, O, U (अंग्रेजी वर्णमाला में 5 स्वर होते हैं।)

- ✓ व्यंजन (Consonants) – B, C, D, F, G, H, J, K, L, M, N, P, Q, R, S, T, V, W, X, Y, Z (अंग्रेजी वर्णमाला में 21 व्यंजन होते हैं)
- वर्णमाला को दो भागों में विभाजित किया गया है:
 - ✓ प्रथम भाग (First Half) – A से M (प्रथम भाग में 13 अक्षर होते हैं, अर्थात् स्थान 1 से 13 तक)
 - ✓ द्वितीय भाग (Second Half) – N से Z (द्वितीय भाग में 13 अक्षर होते हैं, अर्थात् स्थान 14 से 26 तक)

A	B	C	D	E	F	G	H	I	J	K	L	M	N	O	P	Q	R	S	T	U	V	W	X	Y	Z
1	2	3	4	5	6	7	8	9	10	11	12	13	14	15	16	17	18	19	20	21	22	23	24	25	26

Short trick:

- **EJOTY** (इजोटी)

5	10	15	20	25
E	J	O	T	Y

- **CFILORUX** (सिफिलोरक्स)

3	6	9	12	15	18	21	24
C	F	I	L	O	R	U	X

- दाईं ओर से अक्षरों का पता लगाने की प्रक्रिया को इस सूत्र का उपयोग करके सरल बनाया जा सकता है:
 - ✓ बाएँ से स्थिति = 27 - दाएँ से स्थिति
- विपरीत अक्षरों को याद रखने की Trick

Pair	AZ	BY	CX	DW	EV	FU	GT
Trick	AZ	BYe	Cracks	DeW	EVening	Few / Uff	G.T. Road

Pair	HS	IR	JQ	KP	LO	MN
Trick	High School	Indian Railway	Jaipur Queen	KanPur	Life OK	MaN

Type-1 अंग्रेजी वर्णमाला में अक्षर की स्थिति

- यदि समान दिशा में गिनती की जाए (left to left या right to right), तो दोनों स्थानों को घटाया जाता है।
- यदि विपरीत दिशा में गिनती की जाए (left to right या right to left), तो दोनों स्थानों को जोड़ा जाता है।

उदा: अंग्रेजी वर्णमाला में, बाएँ से 21वें अक्षर के बाएँ 10वाँ अक्षर कौन सा है?

हल: नियम के अनुसार: यदि समान दिशा में गिनती की जाए (left to left या right to right), तो दोनों स्थानों को घटाया जाता है।

English alphabet = 21 - 10 = 11वाँ अक्षर = K

उदा: अंग्रेजी वर्णमाला में, दाएँ से 11वें अक्षर के बाएँ 9वाँ अक्षर कौन सा है?

हल: इस प्रकार के प्रश्नों में पहले बाएँ से स्थान ज्ञात करते हैं, फिर 27 में से घटाते हैं।

Alphabet = 11 + 9 = बाएँ से 20वाँ

Original alphabet = 27 - 20 = 7वाँ अक्षर = G

Type-3 अक्षर आधारित प्रश्न

उदा: यदि शब्द 'REPRESENTATIVE' के प्रथम और आठवें अक्षरों का स्थान बदल दिया जाए, फिर दूसरे और नौवें अक्षरों का, और इसी प्रकार आगे भी अदला-बदली की जाए, तो नई व्यवस्था में बाएँ से 6वें अक्षर के बाएँ 4वाँ अक्षर कौन सा होगा?

हल:

स्थान	1	2	3	4	5	6	7	8	9	10	11	12	13	14
मूल अक्षर	R	E	P	R	E	S	E	N	T	A	T	I	V	E
नया अक्षर	N	T	A	T	I	V	E	R	E	P	R	E	S	E

बाएँ से 6वें अक्षर के बाएँ 4वाँ अक्षर = 6 - 4 = 2वाँ = T

Type-4 अंग्रेजी शब्दों का क्रम

- अंग्रेजी शब्दों को वर्णक्रम या शब्दकोश क्रम (dictionary order) में व्यवस्थित करना शब्दों का क्रम कहलाता है।

Type-2 अक्षर युग्म (Letter Pairs)

पर आधारित प्रश्न

- अक्षर युग्म आगे (forward) तथा पीछे (backward) दोनों दिशाओं में बनाए जा सकते हैं।
- एक ही शब्द से अनेक युग्म बनाए जा सकते हैं।
- किसी अक्षर के साथ एक युग्म बनाने के बाद, उसी अक्षर के साथ दूसरा युग्म भी बनाया जा सकता है, यदि उनके बीच की दूरी अंग्रेजी वर्णमाला के अनुसार समान हो।

उदा: शब्द 'COMBINE' में ऐसे कितने अक्षर युग्म हैं, जिनमें उनके बीच शब्द में जितने अक्षर हैं (आगे और पीछे दोनों दिशाओं में), उतने ही अक्षर उनके बीच अंग्रेजी वर्णमाला में भी हों?

हल: सबसे पहले, हम 'COMBINE' शब्द के अक्षरों की स्थिति अंग्रेजी वर्णमाला के अनुसार लिखेंगे, अर्थात् C को 3 लिखा जाएगा और O को 15 लिखा जाएगा, और इसी प्रकार आगे।

C	O	M	B	I	N	E
3	15	13	2	9	14	5

यहाँ हम देख सकते हैं कि केवल B और E एक युग्म बनाते हैं।

उदा: निम्नलिखित शब्दों को अंग्रेजी शब्दकोश क्रम के अनुसार व्यवस्थित करें:

- (A) Epitaxy (B) Episode
(C) Epigene (D) Epitome
(E) Epilogue

हल: शब्दकोश में प्रत्येक शब्द वर्णानुक्रम में व्यवस्थित होता है। साथ ही, प्रत्येक शब्द के अक्षर भी क्रम के अनुसार तुलना किए जाते हैं। अतः शब्दों को शब्दकोश क्रम में इस प्रकार व्यवस्थित किया जाएगा:

(C) Epigene (E) Epilogue (B) Episode

(A) Epitaxy (D) Epitome

अतः सही उत्तर है: (C), (E), (B), (A), (D)

Type-5 शब्दों का सार्थक तार्किक क्रम

उदा: अक्षरों K, E, D, H, I का उपयोग करते हुए, प्रत्येक अक्षर का केवल एक बार प्रयोग करके 5 अक्षरों के कितने सार्थक शब्द बनाए जा सकते हैं?



हल: दिए गए अक्षर: K, E, D, H, I

इन अक्षरों से बनने वाला सार्थक शब्द:

HIKED: लंबी दूरी तक चलना

अतः ऐसा केवल एक ही शब्द संभव है।

उदा: यदि "HALLOWEEN" शब्द के पहले, तीसरे, पाँचवें, छठे और आठवें अक्षरों का उपयोग करके एक पाँच-अक्षरीय सार्थक शब्द बनाया जा सकता है, तो नए बने शब्द का बाएँ से अंतिम अक्षर क्या होगा?

हल: "HALLOWEEN" शब्द के बाएँ से पहला, तीसरा, पाँचवा, छठा और आठवा अक्षर क्रमशः H, L, O, W और E हैं। इन अक्षरों से बनने वाला एकमात्र सार्थक पाँच-अक्षरीय शब्द WHOLE है।



Toppersnotes
Unleash the topper in you



- **श्रृंखला** एक व्यवस्थित संख्या या अक्षरों की व्यवस्था होती है जो एक परिभाषित समूह में होती है। प्रतियोगी परीक्षाओं में, संख्या, अक्षरों या दोनों का मिश्रण प्रस्तुत किया जाता है। श्रृंखला में एक स्थान खाली छोड़ा जाता है या गलत संख्या या अक्षर दिया जाता है। उम्मीदवारों से यह पूछा जाता है कि वे उस स्थान को सही विकल्प से भरें या गलत तत्व को पहचानें।

संख्या श्रृंखला के प्रश्नों को हल करने का एक स्पष्ट और संक्षिप्त तरीका

पैटर्न की पहचान करें: देखें कि क्या संख्या एक निश्चित मात्रा से बढ़ रही है या घट रही है (जोड़/घटाना) या फिर किसी निश्चित मात्रा से गुणा/भाग की जा रही है (गुणन/भाग)।

➤ अंतर खोजें:

- ✓ यदि लगातार संख्याओं के बीच का अंतर समान है, तो यह एक अंकगणितीय श्रृंखला है (जैसे 2, 5, 8, 11)।
- ✓ यदि दूसरा अंतर (अंतर का अंतर) समान है, तो यह द्वितीयक श्रृंखला है।

- **गुणन/भाग की जांच करें:** देखें कि क्या प्रत्येक संख्या को अगले नंबर तक पहुँचाने के लिए किसी निश्चित संख्या से गुणा या भाग किया जा रहा है (जैसे 3, 6, 12, 24, जहां हर संख्या को 2 से गुणा किया जा रहा है)।

➤ विशेष श्रेणियों को पहचानें:

- ✓ **वर्गमूल:** 1, 4, 9, 16, ...
- ✓ **घनमूल:** 1, 8, 27, ...
- ✓ **फिबोनाकी:** प्रत्येक संख्या पिछले दो के योग के बराबर होती है (जैसे 0, 1, 1, 2, 3, 5)।

- **अनुपात की जांच करें:** यदि संख्याएँ एक निश्चित अनुपात से बढ़ रही हैं, तो यह एक ज्यामितीय श्रृंखला (Geometric Progression) है (जैसे 2, 4, 8, 16)।

- **विकल्पों का परीक्षण करें:** यदि विकल्प दिए गए हैं, तो देखें कि कौन सा विकल्प पहचाने गए पैटर्न का पालन करता है।

Type-1 बढ़ती क्रम में श्रृंखला

उदा: दी गई श्रृंखला में प्रश्न चिह्न (?) के स्थान पर निम्नलिखित में से कौन-सी संख्या आएगी?



169, 196, 225, 256, _?

1. 289 2. 324
3. 441 4. 361

हल:

169 196 225 256 289

$$\boxed{+27} \uparrow \boxed{+29} \uparrow \boxed{+31} \uparrow \boxed{+33} \uparrow$$

उदा: दी गई श्रृंखला में प्रश्न चिह्न (?) के स्थान पर निम्नलिखित में से कौन-सी संख्या आएगी?

235, 271, ?, 349, 391, 435

1. 311 2. 307 3. 313 4. 309

हल:

235 271 309 349 391 435

$$\boxed{+36} \uparrow \boxed{+38} \uparrow \boxed{+40} \uparrow \boxed{+42} \uparrow \boxed{+44} \uparrow$$

$$\boxed{+2} \uparrow \boxed{+2} \uparrow \boxed{+2} \uparrow \boxed{+2} \uparrow$$

उदा: दी गई श्रृंखला में प्रश्न चिह्न (?) के स्थान पर निम्नलिखित में से कौन-सी संख्या आएगी?

55, 47, 74, 10, 135, -81, 262, ?

1. 774 2. -250 3. 343 4. -343

हल:

55 47 74 10 135 -81 262 250

$$\boxed{-8} \uparrow \boxed{+27} \uparrow \boxed{-64} \uparrow \boxed{+125} \uparrow \boxed{-216} \uparrow \boxed{+343} \uparrow \boxed{-512} \uparrow$$

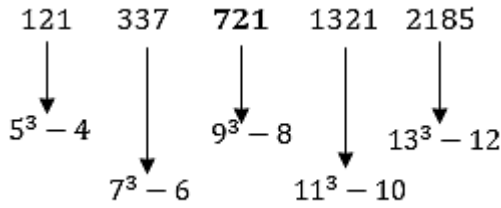
$$2^3 \quad 3^3 \quad 4^3 \quad 5^3 \quad 6^3 \quad 7^3 \quad 8^3$$

उदा: निम्नलिखित श्रृंखला में लुप्त संख्या ज्ञात कीजिए:

121, 337, ?, 1321, 2185

1. 713 2. 720 3. 721 4. 737

हल:



Type-2 गुणा आधारित बढ़ती श्रृंखला

उदा: दी गई श्रृंखला में प्रश्न चिह्न (?) के स्थान पर

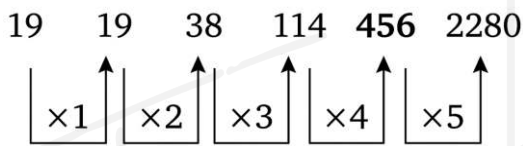
निम्नलिखित में से कौन-सी संख्या आएगी?

19, 19, 38, 114, ?, 2280

1. 344 2. 1140

3. 456 4. 224

हल:



उदा: दी गई श्रृंखला में प्रश्न चिह्न (?) के स्थान पर

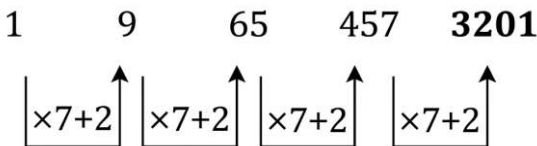
निम्नलिखित में से कौन-सी संख्या आएगी?

1, 9, 65, 457, ?

1. 4258 2. 3125

3. 3201 4. 5289

हल:



उदा: दी गई श्रृंखला में प्रश्न चिह्न (?) के स्थान पर

निम्नलिखित में से कौन-सी संख्या आएगी?

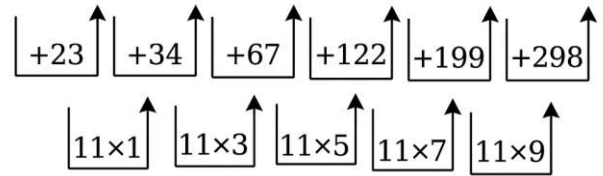
1, 24, 58, 125, 247, 446, ?

1. 774 2. 747

3. 744 4. 777

हल:

1 24 58 125 247 446 744



उदा: दी गई श्रृंखला में प्रश्न चिह्न (?) के स्थान पर

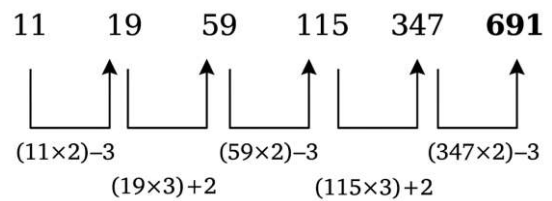
निम्नलिखित में से कौन-सी संख्या आएगी?

11, 19, 59, 115, 347, ?

1. 697 2. 619

3. 679 4. 691

हल:



Type-3 जोड़ और घटाव आधारित श्रृंखला

उदा: दी गई श्रृंखला में प्रश्न चिह्न (?) के स्थान पर

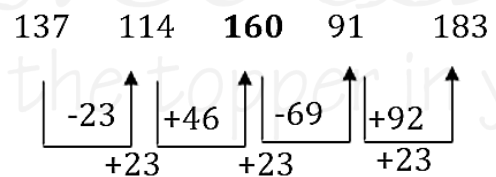
निम्नलिखित में से कौन-सी संख्या आएगी?

137, 114, ?, 91, 183

1. 145 2. 160

3. 125 4. 112

हल:



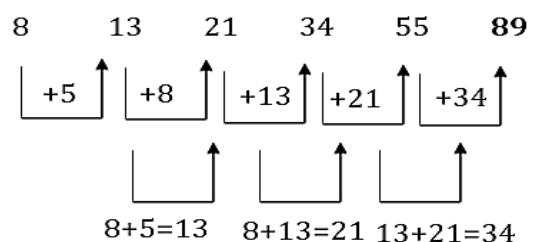
उदा: दी गई श्रृंखला में प्रश्न चिह्न (?) के स्थान पर

निम्नलिखित में से कौन-सी संख्या आएगी?

8, 13, 21, 34, 55, ?

1. 74 2. 68 3. 72 4. 89

हल:



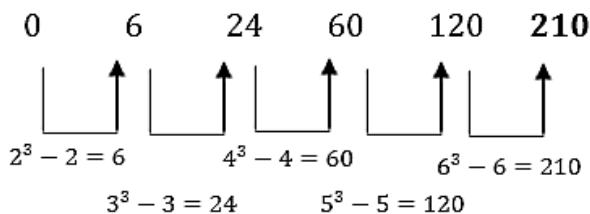
Type-4 वर्ग और घन आधारित श्रृंखला

उदा: श्रृंखला का अगला पद ज्ञात कीजिए:

0, 6, 24, 60, 120, ?

1. 180 2. 210 3. 216 4. 240

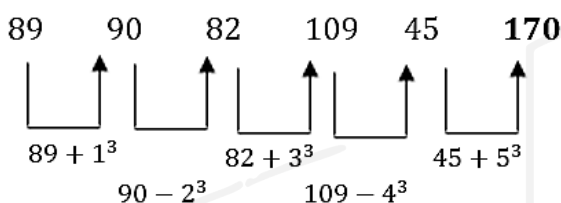
हल:



उदा: दी गई श्रृंखला में प्रश्न चिह्न (?) के स्थान पर निम्नलिखित में से कौन-सी संख्या आएगी?

89, 90, 82, 109, 45, ?

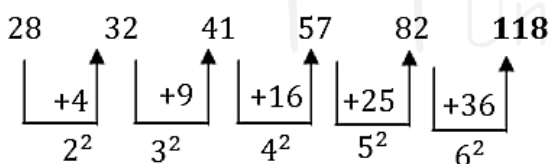
हल:



उदा: दी गई श्रृंखला में प्रश्न चिह्न (?) के स्थान पर निम्नलिखित में से कौन-सी संख्या आएगी?

28, 32, 41, 57, 82, ?

हल:

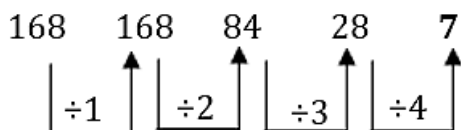


Type-5 भाग पर आधारित घटती हुई श्रृंखला

उदा: निम्नलिखित संख्या श्रृंखला में प्रश्न चिह्न (?) के स्थान पर कौन सी संख्या आएगी?

168, 168, 84, 28, ?

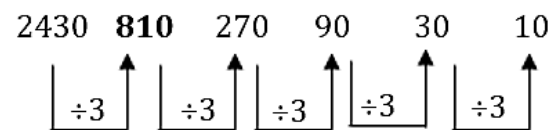
हल:



उदा: निम्नलिखित श्रृंखला में प्रश्न चिह्न (?) के स्थान पर कौन सी संख्या आएगी?

2430, ?, 270, 90, 30, 10

हल:



Type-6 मिश्रित संख्या श्रृंखला

उदा: अगला पर ज्ञात कीजिए 11, 13, 17, 19, 23, _?

1. 27 2. 29
3. 31 4. 33

Ans:

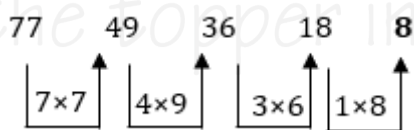
11 → अभाज्य संख्या 13 → अभाज्य संख्या
17 → अभाज्य संख्या 19 → अभाज्य संख्या
23 → अभाज्य संख्या अगली अभाज्य संख्या = 29

उदा: नीचे दी गई श्रृंखला में प्रश्न चिह्न (?) के स्थान पर क्या आएगा?

77, 49, 36, 18, ?

1. 10 2. 12
3. 8 4. 16

हल:



उदा: नीचे दी गई श्रृंखला में प्रश्न चिह्न (?) के स्थान पर क्या आएगा?

3, 15, 5, 35, 7, 63, ?

1. 10 2. 126
3. 9 4. 84

हल:

